

KÖRÖS-MAROS NEMZETI PARK IGAZGATÓSÁG



**XXI. „ŐSZIRÓZSA” TERMÉSZETVÉDELMI
VETÉLKEDŐ
2024.**

Kedves Versenyzők!

Szeretettel köszöntünk benneteket az idei, immár huszonegyedik Őszirózsa Természetvédelmi Vetélkedő I. fordulójában, mely hagyománnyá vált verseny elnevezését a Dévaványa környéki, szikes puszták ősszel jellemző, védett növényéről, a réti őszirózsáról kapta.

Elsőként válasszatok egy frappáns, ötletes csapat nevet, melyért plusz pont is kapható. Az első forduló során az alábbi feladatlapot kell minél pontosabban kitöltenetek és közben utánajárni és olvasni sok mindennek. Élvezetes és eredményes csapatmunkát kíván a Körös-Maros Nemzeti Park Igazgatóság Sterbetz István Tűzokvédelmi Látogatóközpontja! Visszaküldendő: rehely@kmp.hu e-mail, vagy postai úton a **Sterbetz István Tűzokvédelmi Látogatóközpont, 5510 Dévaványa, Réhely** címre.

Beküldési határidő: **2024. szeptember 20.**

Regisztráció

Iskola neve, címe:

Kapcsolattartó pedagógus/felkészítő neve, elérhetősége:


Választott csapatnév:

Csapattagok neve, osztálya:

A feladatlapban vannak olyan feladatok, amiket számítógépen lehet elvégezni, ehhez Office 2016 szükséges!

1. Talajélet

Húzd a szintek nevét a megfelelő helyre, majd egészítsd ki a táblázatot úgy, hogy a fajok nevét és azt a szintet, ahol található behúzd a megfelelő helyre! Nehezítésnek összekevertük a betűket, fejtsd meg a fajok nevét! (Ezt a feladatot számítógépen tudod elvégezni!)



A szint

B szint

C szint

Alapkőzet

ZIEME OPKOC

ÜLCSTÓKÖ

CSÁEBERGRO VLRÁA






SZIANIGOÁR CSŐPKÓLE




GMASZÖBÁK

ABRAN SZÚLÁBZÁ

ÖKSESÖZÉNG OVDANK

ÖFILDGAITLSZI

Faj kinézete	Faj neve	Szint, ahol található
		
		
		
		
		

b.) Írd le Magyarország talajosztályozásának fő típusait!

.....

.....

.....

.....

.....

.....

.....

.....

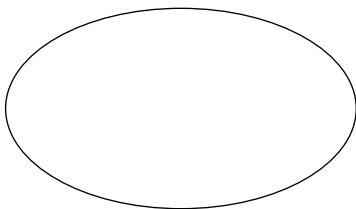
2. Természetes vagy ember alkotta?

a.) Határozd meg, hogy melyik jelenség természet alkotta és melyik ember alkotta. Szkeneld be a QR kódot, majd az ott talált képek sorszámait írd a megfelelő halmazba. (Ehhez a feladathoz számítógép és telefon használata szükséges!)

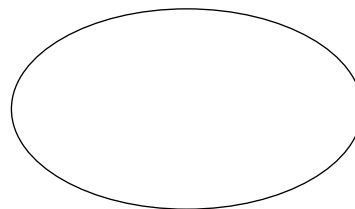


Szkennelj be!

Természet alkotta



Ember alkotta



b.) Írd le, hogy milyen jelenséget látsz egy-egy képen.

Természet alkotta:.....

.....

.....

Ember alkotta:.....

.....

.....

3. Fajismeret

Találd ki a képkockákból, hogy milyen növény lehet a képen, majd írd a vonalra a nevüket!



1.



2.



3.



4.



5.



6.



7.



8.

4. Természetkárosítás ?

Anna, Luca és Sára sétálni mentek és mind a hárman szedtek egy-egy csokrot.

Anna csokrában: 4 db bíborfekete hagyma, 2 db magas kígyószisz, 4 db mirigyes kakascímer

Luca csokrában: 5 db erdélyi útifű, 3 db fátyolos nőszirm, 4 db kamilla

Sára csokrában: 3 db réti iszalag, 4 db nyári tűzike, 4 db gyíkhagyma

A három lány három különböző területen haladt, ahol ezekkel a táblákkal, jelzésekkel találkoztak:

Anna:



Luca:



Sára:



a.) Fejtsd meg, hogy melyik lány NEM végzett természetkárosító tevékenységet és írd a vonalra a megfejtést, válaszodat indokold is meg!

.....

.....

.....

.....

b.) Amennyiben történt természetkárosítás, határozd meg, hogy mekkora értékben (Ft)!

.....

.....


.....

.....

+ pont: Rajzold le a számodra szimpatikus csokrot!

5. Fényszennyezés

Az alábbi képen négy utcai lámpa fényszórását látod.



Írd le, hogy szerinted melyik lámpa fényszórása a legjobb, majd fejtss ki pár szóban, hogy miért gondold így!

.....

.....

.....

.....

.....

.....

6. Szakkönyvek

Húzd alá azokat a könyveket, amiket NEM dr. Sterbetz István írt!

A túzok

Vadász enciklopédia

A természet szolgálatában

A daru Magyarországon

A természetvédelem története

Túzok a Kisalföldön

Zöld kalapban

Őszi tücsök hangol

Vadludak országútján

Vízivad

A túzok védelme Magyarországon

Vadászati ismeretek

